


Küp Açılımı

Aşağıdaki şekli incele ve soruları cevapla.



- 1) Kaç kare var?
- 2) Bu şekil katlanınca ne olur?
- 3) Sen de benzerini çiz!

Geometrik Şekiller


Şekilleri incele.



- 1) Hangisi üçgen?
- 2) Hangisi kare?
- 3) Beşgeni bul!

Açı ve Çeşitleri

Aşağıdaki açıya bak.



- 1) Bu açı dik açı mı?
- 2) Sen dar açı çiz!

Simetri

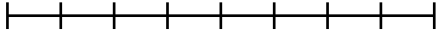
Ortadan ikiye bölünce eş mi?



- 1) Simetri çizgisini bul!
- 2) Şekli tamamla!

Uzunluk Ölçme

Cetvel gibi düşün.



- 1) Çizgi kaç birim?
- 2) Daha uzun bir çizgi çiz!